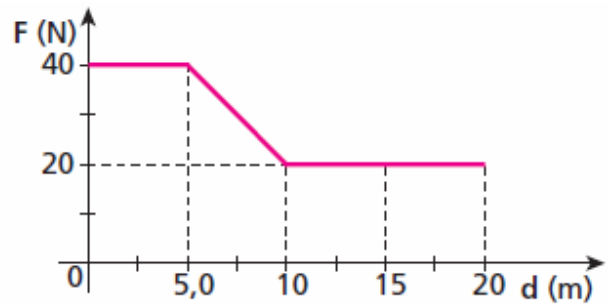


1) No edifício onde mora uma família, deseja-se instalar uma bomba hidráulica capaz de elevar 500 litros de água (1L de água=1Kg de água) até uma caixa d'água vazia, situada a 10 m de altura acima desta bomba, em 1 minuto e 40 segundos. O rendimento de um sistema hidráulico é definido pela razão entre o trabalho fornecido a ele e o trabalho por ele realizado. Espera-se que o rendimento mínimo desse sistema seja de 40%. Calcule a potência mínima, que devera ter o motor dessa bomba. Considere $g=10 \text{ m/s}^2$.

- a) 1250 w
- b) 1000 w
- c) 500 w
- d) 400 w
- e) 200 w

2) O gráfico a seguir mostra a variação da intensidade de uma das forças que agem em uma partícula em função de sua posição sobre uma reta orientada. A força é paralela à reta. Sabendo que a partícula tem movimento uniforme com velocidade de 3 m/s, calcule, para os 18 m de deslocamento descrito no gráfico a potência média.

- a) 300 w
- b) 200 w
- c) 85 w
- d) 65 w
- e) 10 w

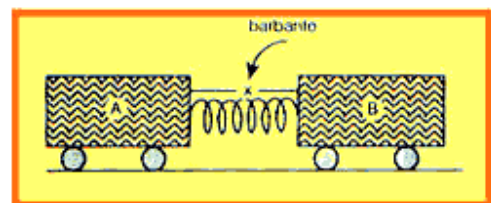


3) Num sistema conservativo:

- a) a energia cinética sempre aumenta
- b) a energia potencial sempre aumenta
- c) a soma da energia cinética com a energia potencial não permanece constante
- d) se a energia cinética aumenta, a energia potencial também aumenta
- e) se a energia cinética diminui, a energia potencial aumenta

4) Um corpo A com massa M e um corpo B com massa 9M estão em repouso sobre um plano horizontal sem atrito. Entre eles existe uma mola, de massa desprezível, que está comprimida por meio de barbante tensionado que mantém ligados os dois corpos. Num dado instante, o barbante é cortado e a mola distende-se, empurrando as duas massas, que dela se separam e passam a se mover livremente. Designando-se por T a energia cinética, pode-se afirmar que:

- a) $2T_A = T_B$
- b) $3T_A = T_B$
- c) $T_A = 2T_B$
- d) $T_A = 3T_B$
- e) $T_A = 9T_B$



5) Um torcedor de futebol, durante uma partida do campeonato brasileiro de 2015, resolveu utilizar seus conhecimentos de Física para explicar diversas jogadas. Nessa perspectiva, leia com atenção as afirmações a seguir e marque V para as verdadeiras e F para as falsas:

() A energia cinética da bola em movimento é diretamente proporcional ao quadrado da sua velocidade.

() A força que o jogador exerce sobre a bola, ao chutá-la, é maior do que a força que a bola exerce sobre o pé do jogador.

() Se, em uma determinada jogada da partida, a bola cair verticalmente de uma altura, a energia potencial em relação à Terra será diretamente proporcional ao quadrado da altura.

() Na cobrança de um pênalti, o jogador altera a quantidade de movimento da bola, que, por sua vez, é novamente alterada quando a bola se choca com a rede.

Assinale a opção que contém a sequência CORRETA das respostas, de cima para baixo:

a) F, V, V, V.

b) V, F, F, V.

c) F, V, F, V.

d) F, F, V, V.

e) V, V, V, F.

6) Uma esfera movimentava-se num plano horizontal subindo em seguida uma rampa de altura $h = 7 \text{ m}$, conforme a figura. Qual a velocidade com que a esfera deve passar no ponto **A** para chegar em **B** com velocidade de 10 m/s , sabendo que no percurso **AB** houve uma perda de energia mecânica de 40% ? Considere $g = 10 \text{ m/s}^2$.

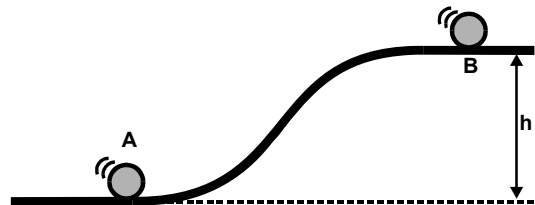
a) 50 m/s

b) 45 m/s

c) 40 m/s

d) 30 m/s

e) 20 m/s



7) Uma partícula de massa $m = 1 \text{ Kg}$ possui velocidade inicial $v_0 = 2 \text{ m/s}$ e recebe a ação de uma força de direção constante, cuja intensidade varia com o tempo, de acordo com gráfico abaixo. Determine a velocidade dessa partícula para o tempo de 2 s.

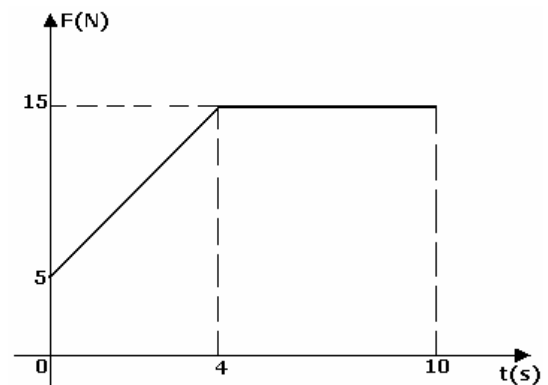
a) 5,5 m/s

b) 7,0 m/s

c) 9,5 m/s

d) 15 m/s

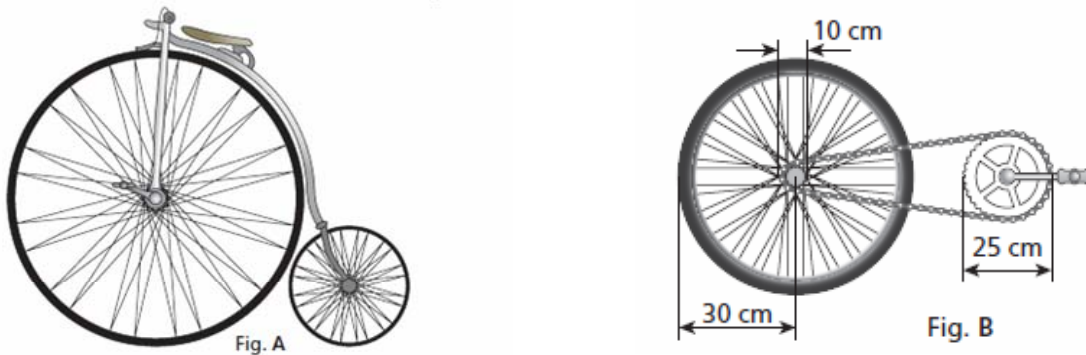
e) 17 m/s



8) Uma bomba de massa 600 kg tem velocidade de 30 m/s e explode em duas partes. Um terço da massa é lançada para trás com velocidade de 30 m/s. Determine a velocidade com que é lançada a outra parte.

- a) 50 m/s
- b) 60 m/s
- c) 65 m/s
- d) 75 m/s
- e) 80 m/s

9) Em 1885, Michaux lançou o biciclo com uma roda dianteira diretamente acionada por pedais (fig. A). Através do emprego da roda dentada, que já tinha sido concebida por Leonardo da Vinci, obteve-se melhor aproveitamento da força nos pedais (Fig. B). Considere que um ciclista consiga pedalar 40 voltas por minuto em ambas as bicicletas. (Use $\pi = 3$)



A respeito dos sistemas apresentados nas figuras A e B, analise as afirmativas abaixo.

- I. Os dentes da coroa (roda dentada da figura B que apresenta diâmetro 25cm) possui velocidade linear de módulo igual a dos dentes da catraca (roda dentada da figura B que apresenta diâmetro 10cm).
 - II. A catraca e a roda a ela acoplada (figura B) apresentam a mesma velocidade linear.
 - III. A catraca e a roda a ela acoplada (figura B) apresentam a mesma velocidade angular.
 - IV. A velocidade desenvolvida pelo biciclo (figura A) é menor que a da bicicleta (figura B).
 - V. A coroa e a roda acoplada à catraca (figura B) apresentam a mesma velocidade linear.
- Marque a alternativa que contém todas as afirmativas corretas

- a) I e II
- b) I, II e IV
- c) I, III e IV
- d) I, II e V
- e) I, III e V

10) Dois corredores, A e B, partem do mesmo pontos de uma pista circular de 100m de comprimento com velocidades escalares constantes e de módulos: $|V_A| = 8\text{m/s}$ e $|V_B| = 6\text{m/s}$. Se partirem em sentidos opostos, podemos afirmar que a menor distância entre eles, medida ao longo da pista, após 10s, será de

- a) 40m
- b) 50m
- c) 60m
- d) 70m
- e) 80m

11) Um móvel realiza um MCUV numa circunferência de raio igual a 10cm. No instante $t = 0$ a velocidade angular é 10rad/s e 4s depois é 30rad/s. O número de voltas completas que o móvel realiza nestes 4s, é igual a: (Adote $\pi = 3$)

- a) 13 b) 14 c) 15 d) 16 e) 17

12) A tabela abaixo resume alguns dados importantes sobre os satélites de Júpiter: como por exemplo o período de revolução desses satélites em torno do planeta Júpiter.

Nome	Diâmetro	Período
Io	421.800	1,8
Europa	670.900	3,6
Ganimesdes	1.070.000	7,2
Calisto	1.880.000	16,7

Ao observar os satélites de Júpiter pela primeira vez, **Galileu Galilei** fez diversas anotações e tirou importantes conclusões sobre a estrutura de nosso universo.

A figura abaixo reproduz uma anotação de Galileu referente a Júpiter e seus satélites.



De acordo com essa representação e com os dados da tabela, os pontos indicados por **1, 2, 3 e 4** correspondem, respectivamente, a:

- a) Europa, Io, Ganimesdes e Calisto.
 b) Ganimesdes, Calisto, Io e Europa.
 c) Europa, Io, Calisto e Ganimesdes.
 d) Calisto, Ganimesdes, Io e Europa.
 e) Calisto, Io, Europa e Ganimesdes.

13) A força de atração gravitacional entre dois corpos de massas **M** e **m**, separados de uma distância **d**, tem intensidade **F**. Então, a força de atração gravitacional entre dois outros corpos de massas **M/2** e **m**, separados de uma distância **d/2**, terá intensidade:

- a) F/4 b) F/2 c) F d) 2F e) 4F

14) Um satélite da Terra move-se numa órbita circular, cujo período é 8 vezes maior que o período da órbita circular de outro satélite. Qual a relação R_1/R_2 , entre os raios de órbita do primeiro e do segundo satélite?

- a) 2 b) 4 c) 8 d) 64 e) 128

15) A massa da Terra é cerca de 81 vezes a massa da Lua, e a distância do seu centro ao centro da Lua é **d**. Suponha que um super-herói vai da Terra à Lua na mesma direção da reta que une o centro desses dois corpos celestes. A que distância **x** (em função de **d**) do centro da Terra a intensidade da força gravitacional exercida pela Terra sobre o super-herói é igual à intensidade da força gravitacional exercida pela Lua sobre o super-herói voador?

- a) 11d/10
 b) d/10
 c) 7d/10
 d) 3d/10
 e) 9d/10